

遵义市第三教育集团 2018—2019 学年度第二学期高一联考试题

地理 (A 卷)

一. 单项选择题 (每小题 4 分, 共 80 分)

大型数据中心是支撑云计算服务的基础设施, 其运行需恒温条件, 能源消耗量大。贵州依托得天独厚的优势建设大型数据中心, 未来贵州省将依托大数据中心, 发展相关产业。但大数据产业发展中还面临创新不足等诸多问题。据此完成 1-2 题。

1. 在贵州建设大型数据中心耗能较低, 原因是  
A. 环境优美 B. 能源充足 C. 人口稀少 D. 海拔较高
2. 未来, 贵州大数据产业发展亟待解决的问题是  
A. 交通不便 B. 人才短缺 C. 资金不足 D. 产业雷同

读“成都市道路网分布图”(图 1), 回答 3-4 题。

3. 成都市城市地域结构为  
A. 组团式 B. 条带式 C. 集中式 D. 扇形状
4. 对成都市城市道路网的说法正确的是  
A. 放射状道路有利于市中心区与郊区的联系  
B. 环形道路增加道路交通拥挤  
C. 环形放射状道路全部是高速公路  
D. 环形放射状道路网可以不用设置红绿灯

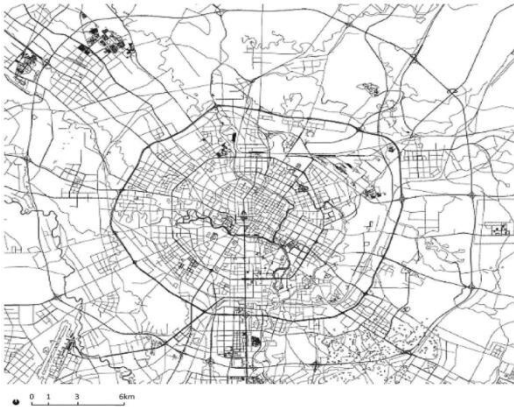


图 1

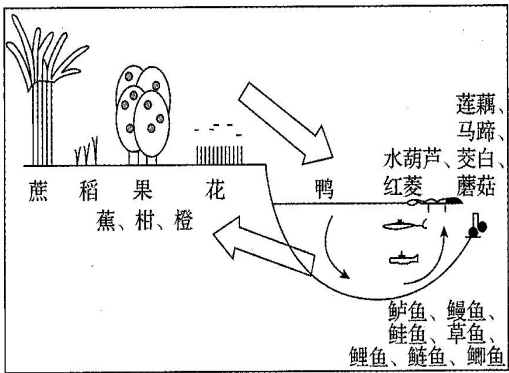


图 2

读“我国某地农业景观图”(图 2), 回答 5-6 题。

5. 图示农业地域类型属于  
A. 种植园农业 B. 混合农业 C. 畜牧业 D. 水稻种植业
6. 据图判断  
A. 箭头表示该地农业生产忙季和闲季错开  
B. 这种农业利于该地农业生态系统良性循环发展  
C. 水热条件决定着该地农产品类型和规模

D. 该地位于我国太湖平原

图 3 为贵州省 2017 年人口统计, 读图回答 7-8 题



图 3

7. 对图示信息分析正确的是  
A. “二孩政策”在贵州省成效不显著 B. 贵州省人口老龄化加重  
C. 贵州省各地区常住人口分布与经济水平一致 D. 贵州省人口增长模式为传统型
8. 应对贵州省人口问题的措施正确的是  
A. 逐步由家庭养老向社会养老过渡 B. 放弃“二孩”政策  
C. 鼓励农民工外出务工 D. 发展工业, 吸纳省外务工人员

跨国餐厅是一种跨国化生活方式的体现, 其数量、类型及空间分布可以揭示区域经济发展水平、人口密度、文化特征、交通便捷度和城市形态, 图 4 为重庆市主城组团分布示意图, 图 5 为主城九区跨国餐厅的数量和类型结构图。读图完成 9-11 题。

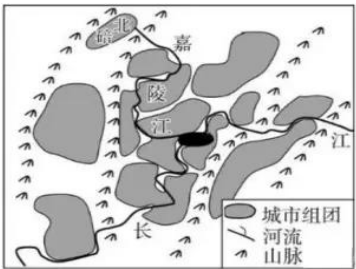


图 4

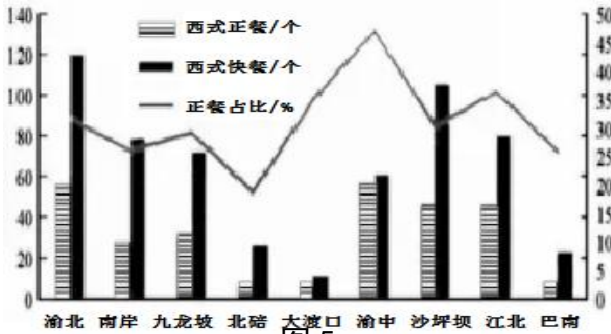


图 5

9. 影响重庆市聚落形态的主要因素是  
①地形 ②气候 ③河流 ④交通  
A. ①② B. ①③ C. ①④ D. ②④
10. 图中深色区域可能是  
A. 渝北区 B. 九龙坡区 C. 渝中区 D. 沙坪坝区
11. 有关重庆西式餐厅布局的叙述, 正确的是  
A. 经济水平越高正餐占比越低 B. 大学城较工业区分布密度小

C.正餐厅和快餐厅分别布局在较低和较高楼层 D.西式快餐的分布扩散较正餐快  
图6是我国甲、乙两城市不同城区人口变化统计图。回答12-13题。

12.两城市发展进入

A.城市化阶段 B.郊区城市化阶段 C.逆城市化阶段 D.再城市化阶段

13.导致甲、乙两城市，城市化快速发展的根本原因是

A.城市土地有偿使用制度的实施  
B.城市中心区危旧房改造与郊区新住宅建设的加快  
C.城市交通、通信条件的改善  
D.城市第二、三产业的快速发展

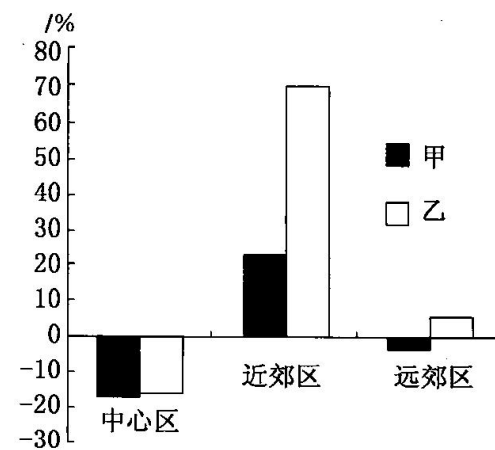


图6



图7

农夫山泉股份有限公司，总部设立在杭州，旗下拥有多个优质水源基地，并坚持纯天然的理念，水源地建厂、灌装。近年来，公司产业多元化发展，从卖饮品到卖水果，2018年8月又开始卖大米。图7为农夫山泉公司八大水源基地。据此回答14-15题。

14.影响农夫山泉旗下生产企业选址的主要因素是

A.市场 B.原料 C.劳动力 D.技术

15.该公司的生产对象从饮品到农副产品，导致其变化的主要原因

A.市场的需求 B.先进的技术 C.政策的支持 D.便利的交通

一般住宅特别是高层住宅的第一层、第二层销售都较为困难，其价位也较其他层位低。开发商通过将第一、第二层转为做底商，价格可以卖得更好，同时住宅小区的商业配套也得以解决。回答16-17题。

16.有关底商，下列说法正确的是

A. 底商只为本小区的居民服务  
B. 因底商租金较高，一般都销售较高级的商品  
C. 底商与大型超市没有竞争关系  
D. 底商既可以销售商品，也可以提供其它服务

17.以下店铺最适合布局在底商的是

A. 烧烤店 B. 水果店 C. 金铺 D. 服装批发店

普洱茶是以云南省当地大叶种晒青茶为原料，由茶农采用特定工艺、经发酵后加工制成。在以马驮为主要运输方式的年代，普洱茶要借助路上运输时间进行二次发酵。

如今“渥堆发酵”技术可将普洱茶漫长的自然发酵时间缩短为45天左右。“渥堆发酵”是指将晒青毛茶堆放成一定高度后洒水，上覆麻布，使之在较高的温度、偏低的降水量的环境中发酵24小时左右。勐海县号称“普洱茶圣地”，位于云南省最南端，很多普洱茶企业都争相在勐海县设厂，即使不设厂，也要把发酵车间设在勐海县。据材料回答18-20题。

18.催生普洱茶“渥堆发酵”技术的原因是

A. 气候适宜发酵 B. 传统经验丰富 C. 运输时间缩短 D. 原料优质丰富

19.在勐海县最好的发酵时间是

A. 春季 B. 夏季 C. 秋季 D. 冬季

20.很多普洱茶生产企业争相在勐海县设厂的原因是

A. 加强企业协作 B. 共用基础设施 C. 提高企业知名度 D. 利用当地独特环境

二. 综合题 (共20分)

61. 阅读下列材料和图，回答问题 (20分)

材料一 2017年5月，由旗帜婴儿乳品股份有限公司（简称旗帜公司）打造的旗帜婴幼儿配方奶粉荣膺世界食品品质评鉴大会“特别金奖”。旗帜公司通过整合种植、养殖、加工等全产业链关键环节，在全球首创“养殖、加工零距离一体化”生产模式，从挤奶到加工仅需两小时，提高了企业竞争力。图8示意旗帜公司位置。

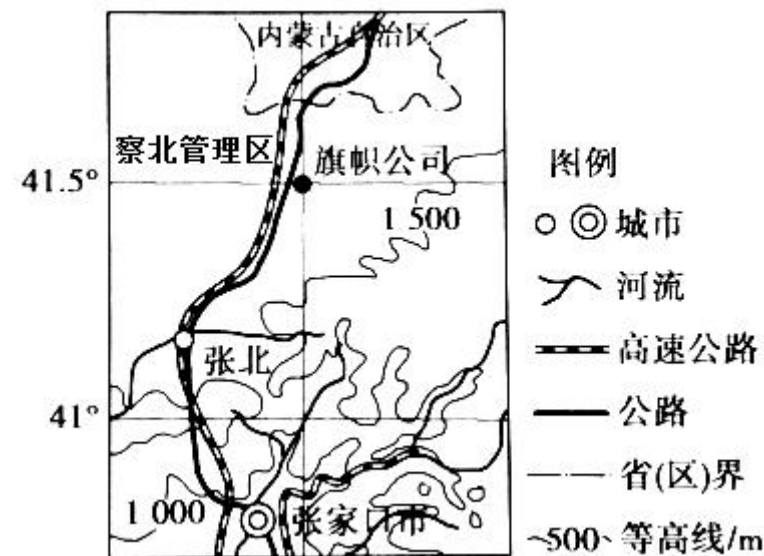


图8

材料二 察北管理区地处张家口市北部坝上高原，属温带大陆性季风气候，年降水约380mm，集中7—9月份，草原面积广阔，是河北北方最大的奶源基地和张家口市鲜奶加工核心基地。

材料三 2008年某知名品牌奶粉爆发“三聚氰胺”事件以来，我国民众对国产奶粉信心大减，这令我国奶业发展受挫。

(1) 简析旗帜公司选址察北管理区种植饲料，养殖奶牛的优势自然条件。(6分)

(2) 分析旗帜公司“养殖、加工零距离一体化”生产模式如何提高市场竞争力?(8分)

(3) 旗帜公司首创“养殖、加工零距离一体化”生产模式，对我国奶业发展有哪些积极意义?(6分)

遵义市第三教育集团 2021 届高三第一次联考

地理参考答案(A 卷)

1-5: DBCAB

6-10: BBABC

11-15: DBDBA

16-20: DBCAD

61 (1) 临近张家口市, 位置优越; 气候温和, 降水适中, 有利于牧草种植; 高原地形, 地势开阔; 草原面积广, 利于养殖; 生态环境好, 污染小。

(2) 接近奶源地, 缩短原料运输时间和运输成本; 降低冷藏保鲜的投入成本; 保证奶源品质; 提高市场竞争力。

(3) 该模式从牧场到市场, 全程可追溯, 保证产品质量; 有利于恢复我国奶业的市场信心; 提高我国奶业的市场竞争力; 对我国奶业的发展有促进作用。